

# Ecuación ordinaria – estándar

Ya que conocemos cuáles son los elementos que definen a la elipse vamos a graficar y obtenerlos cuando se dan algunos de ellos, o bien cuando nos dan la ecuación.

## Ejemplo 1

a)  $a = 4, b = 2, C(0, 0)$ , horizontal.

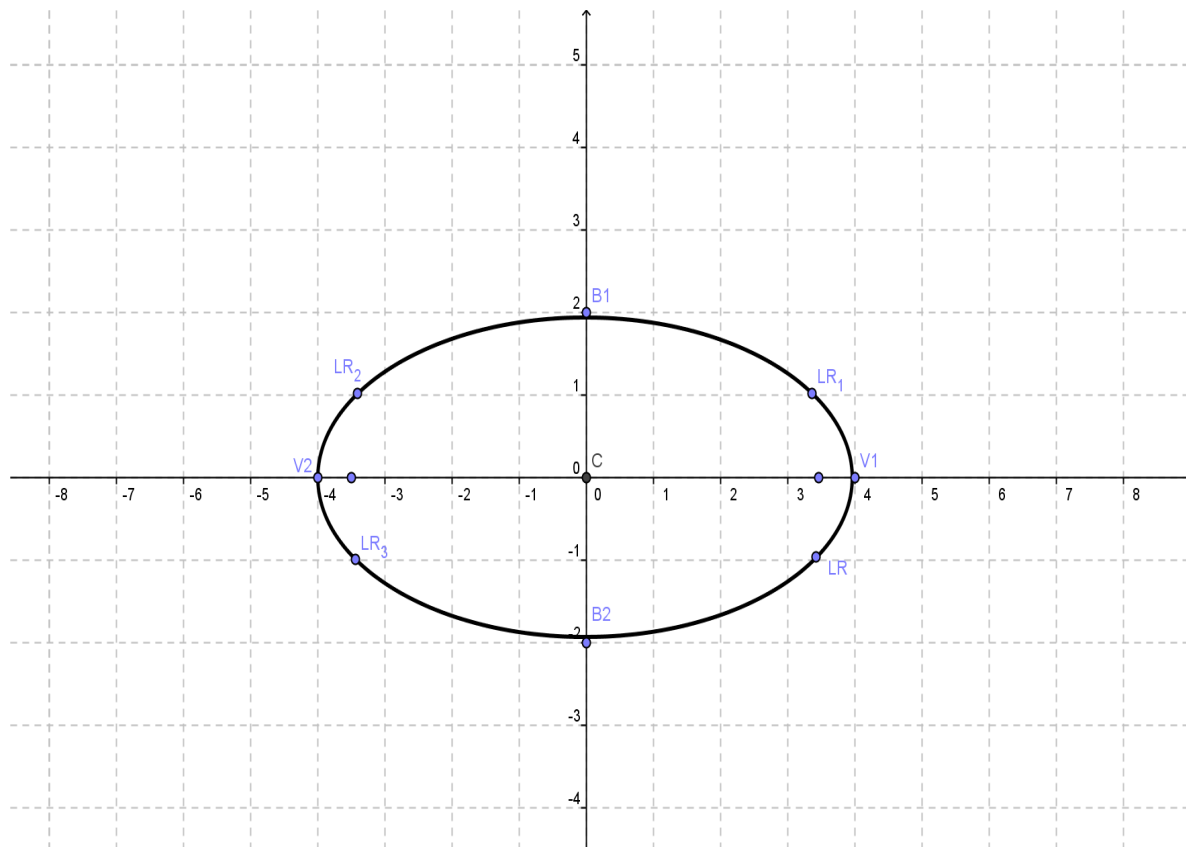
### Solución

- Calculamos  $c$ , con  $c^2 = a^2 - b^2$ .
- Ubicamos el centro en el origen.
- Como es horizontal, medimos 4 unidades a la derecha del centro y cuatro unidades a la izquierda.
- Medimos 2 unidades hacia arriba del centro y dos hacia abajo para el eje menor.
- Medimos el valor de  $c = \sqrt{12}$ , que es aproximadamente 3.46 hacia la derecha y hacia la izquierda del centro que corresponde a los focos.
- Calculamos la longitud del lado recto con  $\overline{LR} = \frac{2b^2}{a}$ , y obtenemos  $\overline{LR} = 2$ .
- Ubicamos la mitad de esa medida (1) hacia arriba y hacia abajo del foco.
- Unimos los puntos  $V_1, \overline{LR}, B_1, \overline{LR}, V_2, \overline{LR}, B_2, \overline{LR}, V_1$ , con una curva.
- Obtenemos la ecuación cuando el centro está en el origen y el horizontal.

$$\frac{x^2}{a^2} + \frac{y^2}{b^2} = 1$$

- Obtenemos las coordenadas de los elementos de la elipse.

# Ecuación ordinaria - estándar



La ecuación:  $\frac{x^2}{a^2} + \frac{y^2}{b^2} = 1$

$$\frac{x^2}{16} + \frac{y^2}{4} = 1$$

Coordenadas de los elementos:

$$\begin{aligned} & C(0,0) \\ & V_1(4,0), V_2(-4,0) \\ & F_1(\sqrt{12},0), F_2(-\sqrt{12},0) \\ & B_1(0,2), B_2(0,-2) \\ & \overline{LR}(\sqrt{12},1), (\sqrt{12},-1), (-\sqrt{12},1), (-\sqrt{12},-1) \end{aligned}$$

b) La elipse está dada por la ecuación:  $\frac{x^2}{9} + \frac{y^2}{49} = 1$

# Ecuación ordinaria – estándar

## Solución

Si analizamos la ecuación podemos ver que:

- A la  $x^2$  y a la  $y^2$  no se le suma ni resta ningún número por lo que deducimos que el centro está en el origen.
- El denominador mayor está debajo de  $y^2$ , entonces es vertical.
- La “ $a$ ” siempre es mayor que la “ $b$ ”, entonces  $a = \sqrt{49}$  y  $b = \sqrt{9}$ ; es decir,  $a = 7$  y  $b = 3$
- Calculamos  $c$  con  $c^2 = a^2 - b^2$ , y obtenemos:

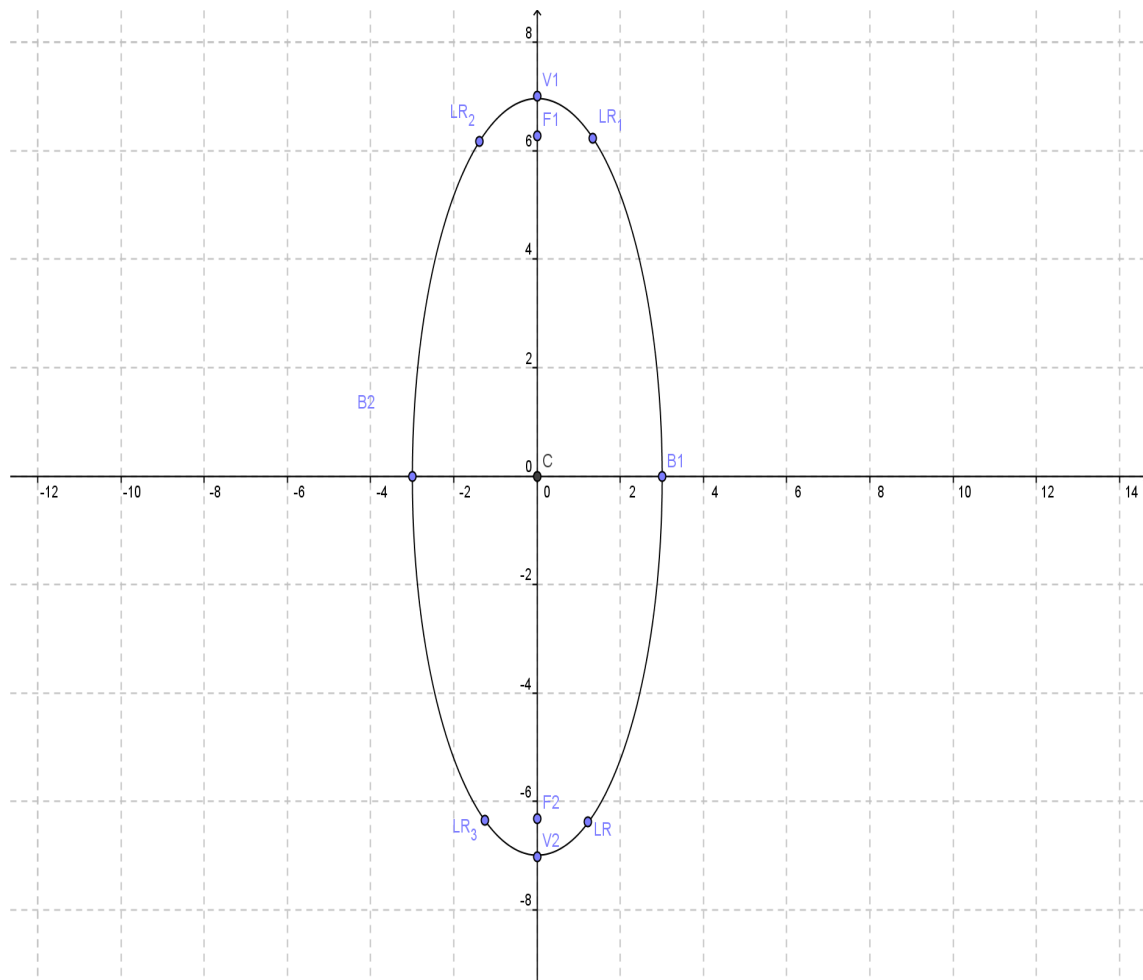
$$c^2 = (7)^2 - (3)^2$$

$$c^2 = 40$$

$$c = \sqrt{40} \approx 6.3$$

- Calculamos la longitud del lado recto con  $\overline{LR} = \frac{2b^2}{a}$ , y obtenemos  $\overline{LR} = \frac{18}{7} \approx 2.57$
- Ubicamos la mitad de esa medida  $\left(\frac{9}{7} \approx 1.28\right)$  hacia arriba y hacia abajo del foco.
- En el plano ubicamos el centro en el origen.
- Medimos del centro hacia arriba y hacia abajo el valor de “ $a$ ” (recordemos que es vertical).
- Medimos hacia los lados del centro el valor de “ $b$ ”.
- Marcamos hacia arriba y hacia abajo el valor de “ $c$ ”.
- Ubicamos los lados rectos marcando hacia arriba y hacia debajo de “ $c$ ”, que son los focos.
- Unimos los puntos con una curva.
- Obtenemos las coordenadas de los elementos de la elipse.

# Ecuación ordinaria - estándar



- La ecuación:

$$\frac{x^2}{9} + \frac{y^2}{49} = 1$$

Coordenadas de los elementos:

$$C(0, 0)$$

$$V_1(0, 9), V_2(0, -9)$$

$$F_1(0, \sqrt{40}), F_2(0, -\sqrt{40})$$

$$B_1(3, 0), B_2(-3, 0)$$

$$\overline{LR} \left( \frac{9}{7}, \sqrt{40} \right), \left( \frac{9}{7}, -\sqrt{40} \right), \left( -\frac{9}{7}, \sqrt{40} \right), \left( -\frac{9}{7}, -\sqrt{40} \right)$$

# Ecuación ordinaria – estándar

c)  $C(-3, -1)$  longitud del eje mayor igual a 20 y  $e = 0.5$ , horizontal.

## Solución

- Como el centro está fuera del origen y es horizontal, la ecuación que se aplica es:

$$\frac{(x-h)^2}{a^2} + \frac{(y-k)^2}{b^2} = 1$$

- La longitud del eje mayor corresponde a  $2a$ , por lo tanto:

$$2a = 20$$

$$a = 10$$

- Como la excentricidad es  $e = \frac{c}{a}$ , despejamos  $c = (e)(a)$ , sustituyendo obtenemos:

$$c = (0.5)(10)$$

$$c = 5$$

- Con  $a = 10$  y  $c = 5$ , sustituimos en:

$$b^2 = a^2 - c^2$$

$$b^2 = (10)^2 - (5)^2$$

$$b^2 = 100 - 25$$

$$b^2 = 75$$

$$b = \sqrt{75}$$

- La longitud del lado recto está dada por:

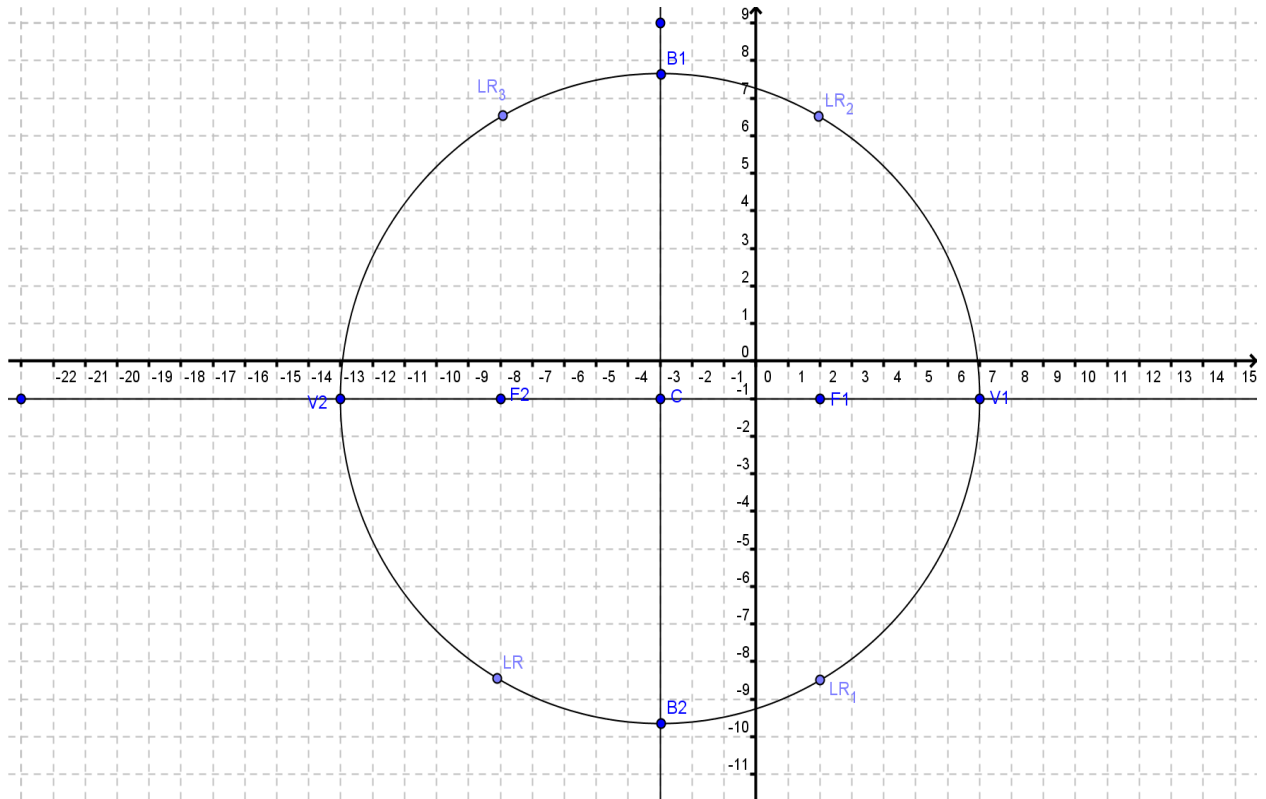
$$\overline{LR} = \frac{2b^2}{a} = \frac{2(\sqrt{75})^2}{10} = 15$$

- La mitad del lado recto es:  $\frac{15}{2} = 7.5$

Gráfica:

- Ubicamos el centro en  $(-3, -1)$ .
- Ubicamos los vértices hacia los lados del centro midiendo 10 unidades a cada lado del centro.
- Los focos se ubican marcando 5 unidades a cada lado del centro.
- El eje menor se mide del centro hacia arriba  $\sqrt{75}$  y hacia abajo.
- Para la longitud del lado recto se mide  $\frac{15}{2}$  a ambos lados de los focos.
- Se obtiene la ecuación de la elipse.
- Se obtienen las coordenadas de los elementos de la elipse.

# Ecuación ordinaria - estándar



Ecuación:  $C(-3, -1)$   $a = 10$ ,  $b = \sqrt{75}$

$$\frac{(x - h)^2}{a^2} + \frac{(y - k)^2}{b^2} = 1$$
$$\frac{(x + 3)^2}{(10)^2} + \frac{(y + 1)^2}{(\sqrt{75})^2} = 1$$
$$\frac{(x + 3)^2}{100} + \frac{(y + 1)^2}{75} = 1$$

Coordenadas de los elementos:

- $C(-3, -1)$
- $V_1(7, -1), V_2(-13, -1)$
- $F_1(2, -1), F_2(-8, -\sqrt{40})$
- $B_1(-3, -1 + \sqrt{75}), B_2(-3, -1 - \sqrt{75})$
- $LR(2, 13/2), (-8, 13/2), (2, -17/2), (-8, -17/2)$
- $\overline{LR}(2, \frac{13}{2}), (-8, \frac{13}{2}), (2, \frac{17}{2}), (-8, \frac{17}{2})$